



وزارة التربية
إدارة الشؤون التعليمية
مراقبة الامتحانات وشؤون الطلبة



نموذج الإجابة
المرحلة المتوسطة

(منهج كامل)

الدور الثاني

المادة : الاجتماعيات

الصف : التاسع

العام الدراسي

2016 / 2017

العالم الدراسي ٢٠١٧/٢٠١٦	وزارة التربية
الفصل الدراسي: الثاني	التوجيه الفني للاجتماعيات
الزمن: ساعة و ٤٥ دقيقة	منطقة مبارك الكبير التعليمية

اختبار المنهج الكامل لقرر (الكويت والعالم) مادة الاجتماعيات-الصف التاسع

٦

السؤال الأول: موضوعي ويتكون من (أ- ب):

أ- ظلل الإجابة الصحيحة من بين البدائل (درجة لكل نقطة):

١- منطقة واسعة ترتفع فوق ما يجاورها من أراضي تتميز بأن أسطحها العليا شبه مستوية وجوانبها شديدة الانحدار: ص ٣٤

الهضاب	التلال	الجبال	السهول
--------	--------	--------	--------

٢- أصغر قارات العالم من حيث المساحة تسمى: ص ٧٩

أوروبا	أفريقيا	استراليا	آسيا
--------	---------	----------	------

٣- وحدة بيئية متكاملة تتكون من مكونات حية تتفاعل مع مكونات غير حية تعمل وفق نظام دقيق: ص ٥٦

التوازن البيئي	البيئة الطبيعية	النظام البيئي	البيئة البشرية
----------------	-----------------	---------------	----------------

٤- عقد مؤتمر مجموعة الثمانية (G 8) لمكافحة ظاهرة الاحتباس الحراري في عام: ص ١٣٥

٢٠٠٧م	٢٠٠٦م	٢٠٠٥م	٢٠٠٤م
-------	-------	-------	-------

٥- الرحلات التي قام بها الأوروبيون لاكتشاف عوالم جديدة تسمى: ص ١١٥

الأحلاف السياسية	الحركة الإنسانية	الثورة الصناعية	الكشوف الجغرافية
------------------	------------------	-----------------	------------------

٦- دولة استضافت المؤتمر الموسع الثالث لوزراء خارجية دول جوار العراق عام ٢٠٠٨ هي: ص ١٥١

قطر	الكويت	مصر	المغرب
-----	--------	-----	--------

٤

ب- من أنا؟ (درجة لكل نقطة):



موسوليني ص ١٢٢



..... ألكسندر غراهام بل ص ٩٥



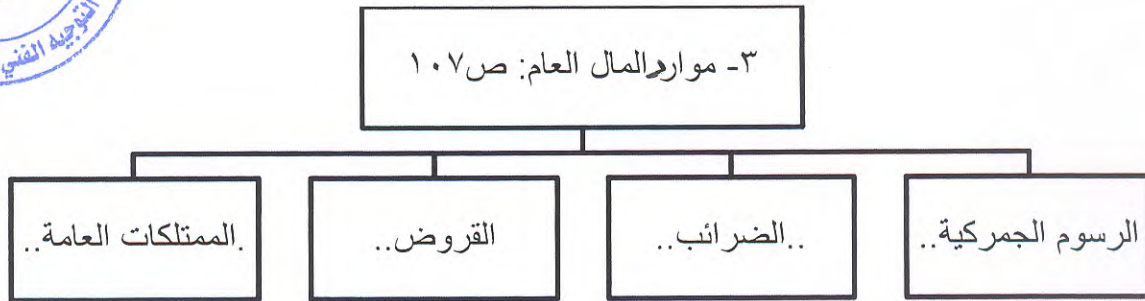
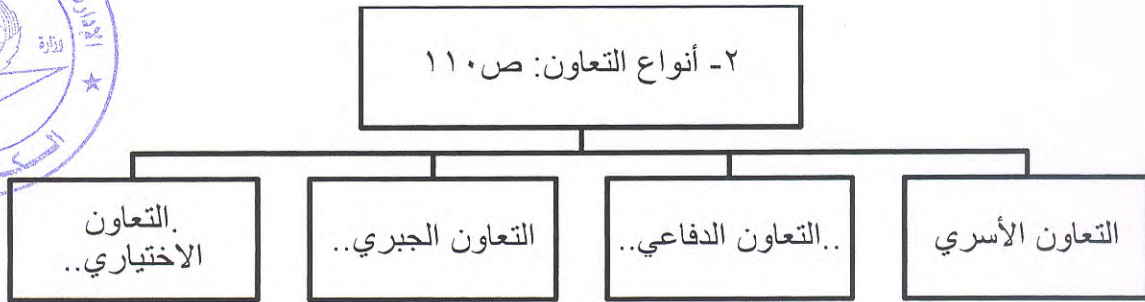
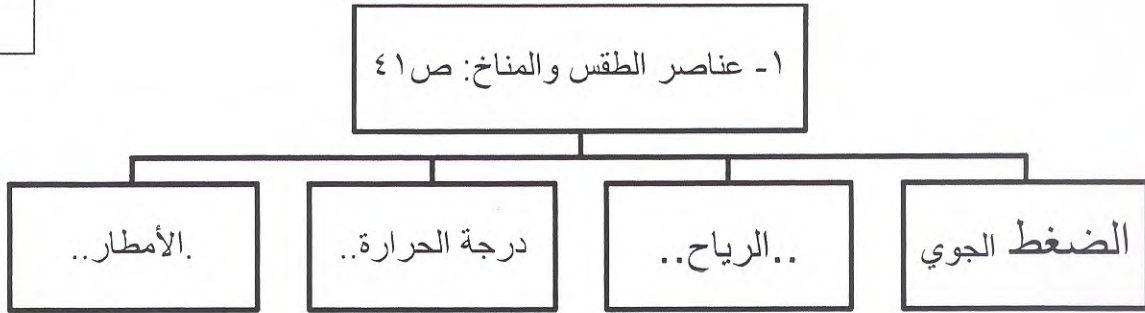
..هتلر.. ص ١٢٢



في ٢٠ مايو ١٤٩٨م:
...فاسكو دي جاما..... ص ٨٩

السؤال الثاني: أ - أكمل المخططات السهمية التالية بما يناسبها (درجة لكل نقطة):

٩



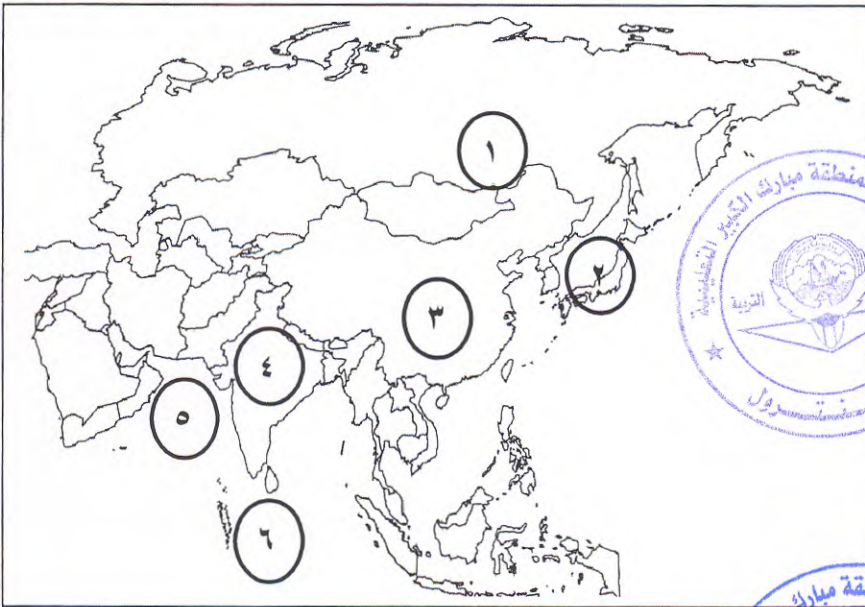
السؤال الثالث: يتكون من (أ- ب):

أ- أكمل العبارات التالية بما يناسبها (درجة لكل نقطة)

٦

- ١- مدينة أقيمت بها أول مستوطنة بريطانية في استراليا تسمى... سيدني.. ص ٨٧
- ٢- خط وهمي يعتبر خط الأساس لدوائر العرض ورقمه صفر يسمى.. خط الاستواء.. ص ٢٢
- ٣- محصول لا يمكن الاستفادة منه بصورته الخام إلا بعد تصنيعه هو .. القطن.. ص ٧١
- ٤- أبعد نقطة عن الشمس تصل إليها الأرض في مدارها تسمى ..الأوج.. ص ٢٧
- ٥- سلسلة جبال تحد جمهورية الهند من جهة الشمال تسمى ..جبال الهماليا... ص ٩٠
- ٦- مدينة اتخذت مقرًا دائمًا لمنظمة الأمم المتحدة تسمى .. نيويورك.. ص ١٢٨

ب- لاحظ خريطة آسيا الصماء التي أمامك واختر المدلولات الموضحة عليها مايناسب كل عبارة مما يلي:



- دولة مشتتة تقع في منطقة بركانية
يمثلها الرقم (٢).. ص ٩٢
- سهل سيبيريا يمثلها الرقم.. (١).. ص ٨٠
- بحر العرب يمثلها الرقم .. (٥).. ص ٩٠
- دولة خضعت للاستعمار البريطاني
ثلاثة قرون يمثلها الرقم .. (٤).. ص ٨٩
- المحيط الهندي يمثلها الرقم .. (٦).. ص ٨٩



٥

السؤال الرابع: مقالى ويتكون من (أ- ب):

٤

أ- عرف المفاهيم التالية: (درجة لكل نقطة):

- ١- الكواكب: أجسام كونية معتمة باردة تستمد نورها من أقرب نجم لها. ص ١٧
- ٢- الأقاليم المناخية: تجانس العناصر المناخية في نطاقات محددة من الأرض. ص ٤١
- ٣- الغلاف الحيوي: الحيز المكاني الذي توجد به الحياة ويسمح للكائنات بأشكالها المختلفة العيش فيه. ص ٣٨
- ٤- التكافل الاجتماعي: هو النظام الذي يقوم على التفاعل والإعالة بين الأعضاء في المجتمع. ص ١١٠



ب- علل لما يلي: (درجة لكل نقطة):

٥

- ١- تعرج خط التاريخ الدولي. ص ٢٤

..... لتفادي الجزر المأهولة بالسكان.....

- ٢- زراعة الأرز في شمال هوكايدو. ص ٩٣



.. لاستخدامهم وسائل التدفئة للتربة واستنباط أنواع من البذور.....

- ٣- تمييز حيوانات إقليم الحشائش بقدرتها الكبيرة على الجري. ص ٣٩

... لأن لا يوجد أشجار كثيفة تعيق حركتها.....

- ٤- التوازن في الطبيعة دائم التغير. ص ٥٩

... لأن البيئة غير ثابتة لأنها حصيلة تفاعل مستمر بين العديد من العوامل المتغيرة / لأن أي تغير ف عامل بيئي

يؤدي إلى تغير غيره في العوامل..

- ٥- يعد النفط والغاز الطبيعي مادة استراتيجية مهمة في عصرنا الحاضر. ص ١٣٠

لتوفرهما بكميات كبيرة في مناطق محددة- سهولة نقلهما وتخزينهما- يعتبران مادتان هامتان وقت السلم والحرب.

السؤال الخامس: يتكون من (أ - ب):

٨

أ- قارن من حيث ما هو مطلوب منك في الجداول التالية: (درجة لكل نقطة):

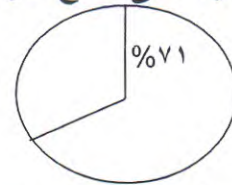
وجه المقارنة	مصادر الطاقة المتجددة	مصادر الطاقة غير المتجددة ص ١٢٩
التعريف	هي التي لا تنفذ أبداً مادامت هناك حياة على وجه الأرض.	تشمل مصادر الطاقة ذات الكمية المحدودة والتي يتناقض حجمها باستمرار مع الزمن نتيجة للزيادة المطردة في استهلاكها.
مثال	الشمس- الرياح- الأمواج	الفحم- النفط- الغاز

وجه المقارنة	الأقاليم المناخية الحارة	الأقاليم المناخية الباردة
موقعها من حيث دوائر العرض	٣٠ شمالاً وجنوباً	٦٠- ٩٠ شمالاً وجنوباً
مثال	المناخ الإستوائي	مناخ التندرا (الصحاري الباردة)

ب- إقرأ الفقرة التالية ثم أجب عن الأسئلة التي تليها (درجة لكل نقطة):

يعتبر تلوث الماء من أشد أنواع التلوث خطراً حيث يشغل الماء ٧١% من مساحة سطح الأرض، ومن أهم ملوثات الماء مخلفات ناقلات النفط ومخلفات المصانع السائلة والصلبة التي تلقى على المسطحات المائية

١- حول نسبة المياه على سطح الأرض إلى دائرة بيانية. ص ٦٢



٢- أذكر اثنين من أسباب التلوث المائي.

مخلفات ناقلات النفط - مخلفات المصانع الصلبة والسائلة- المجاري الصحية غير المعالجة ص ٦٣

٣- اقترح حلاً لمشكلة التلوث المائي.

- عدم رمي مخلفات الناقلات أو المصانع أو مياه المجاري غير المعالجة في الماء. ص ٦٣

- كل ما يكتبه الطالب ويراه المصحح مناسباً.

السؤال السادس: أ- أكتب في نقطتين (درجة لكل نقطة):

٨

- نتائج الدورة الأهلية للأرض حول الشمس. ص ٢٧
- ١- تعاقب الفصول الأربعة.
- ٢- اختلاف طول الليل والنهار.

- مبادئ الديمقراطية. ص ١٠٥
- ١- الحرية- المساواة.
- ٢- سيادة القانون- حكم الشعب.

- أنواع أنشطة الصندوق الكويتي للتنمية الاقتصادية. ص ١٤٤
- ١- تقديم القروض والضمانات للدول النامية.
- ٢- تقديم المنح على سبيل المعونة الفنية.



- أنواع الخسوف: ص ٣١
- ١- خسوف كلي.
- ٢- خسوف جزئي.



انتهت الأسئلة